

Test na kartę rowerową nr 6

Masz przed sobą test składający się z 20 poleceń. Pytania testowe mają trzy odpowiedzi: a, b, c. Tylko jedna z nich jest poprawna. Wybierz ją i zamaluj długopisem kratkę znajdującą się obok. Za każdą poprawną odpowiedź uzyskasz 1 punkt. Za rozwiązanie całego testu możesz otrzymać maksymalnie 20 punktów.

.....
imię i nazwisko

.....
klasa

1. Zbliżając się do przejazdu kolejowego bez zapór, rowerzysta powinien:

- a) obserwować teren po obu stronach drogi,
- b) podjechać ostrożnie do przejazdu i zatrzymać się,
- c) nie zwracać uwagi na tory.

2. Jeśli na sygnalizatorze włączy się żółte światło, to rowerzysta:

- a) może wjechać na skrzyżowanie,
- b) nie może wjechać na skrzyżowanie,
- c) może wjechać na skrzyżowanie, pod warunkiem, że rowerzystów jest więcej niż trzech.

3. Prawidłowe wyposażenie roweru to:

- a) jedno światło białe z przodu, jedno światło pozycyjne barwy czerwonej z tyłu, jedno światło odblaskowe barwy czerwonej z tyłu, działający hamulec, dzwonek,
- b) jedno światło białe z przodu, jedno światło pozycyjne barwy czerwonej, jedno światło odblaskowe barwy żółtej, działający hamulec, dzwonek,
- c) jedno światło białe z przodu, jedno światło pozycyjne barwy białej z tyłu, jedno światło odblaskowe barwy czerwonej z tyłu, działający hamulec, dzwonek.

4. Jadąc rowerem drogą jednokierunkową:

- a) można zawrócić pojazd zachowując szczególną ostrożność,
- b) nie można zawrócić pojazdu,
- c) można zawrócić pojazd, jeśli szerokość drogi wynosi 3,75 m.

5. Czy przez przejście dla pieszych wolno przejeżdżać rowerem?

- a) tak, jeżeli rowerzysta posiada kartę rowerową,
- b) nie, prawo tego zabrania,
- c) tak, jeśli zapalone jest zielone światło.

6. Kierujący, dojeżdżając do skrzyżowania, w pierwszej kolejności stosuje się do:

- a) poleceń wydawanych przez znajdującego się tam policjanta,
- b) wyświetlanych sygnałów świetlnych,
- c) znaków drogowych pionowych.

7. Które z podanych par pojazdów są jednośladowe?

- a) samochód, motor,
- b) rower, motorower,
- c) deskorolka, rolki.

8. Rowerzyście zabrania się między innymi:

- a) czeplania się pojazdów,
- b) zatrzymywania się w odległości mniejszej niż 10 m od przedniej strony znaku drogowego,
- c) zatrzymywania się na poboczu.

9. Rowerzysta, zbliżając się do przejścia dla pieszych, powinien:

- a) zwiększyć prędkość roweru,
- b) zmniejszyć prędkość roweru,
- c) zatrzymać się.

10. Ten znak oznacza:

- a) zakaz postoju,
- b) zakaz zatrzymywania się,
- c) zakaz ruchu.



11. Znak ten oznacza zakaz ruchu:

- a) wszelkich pojazdów w obu kierunkach,
- b) tylko pojazdów silnikowych,
- c) wszystkich uczestników ruchu drogowego.



12. Ten znak poziomy:

- a) zezwala rowerzyście na kontynuowanie jazdy bez zatrzymania,
- b) wskazuje miejsce bezwzględnego zatrzymania roweru,
- c) zezwala rowerzyście na jazdę z zachowaniem ostrożności.

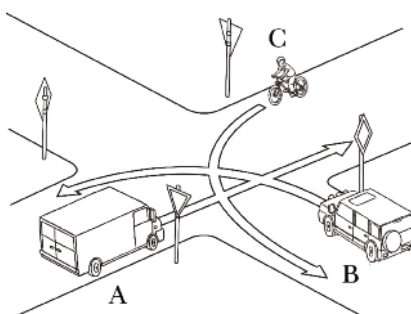


13. Który znak oznacza drogę dla rowerów?



- a)
- b)
- c)

14. Na tym skrzyżowaniu pierwszy przejedzie pojazd:



- a) A,
- b) B,
- c) C.

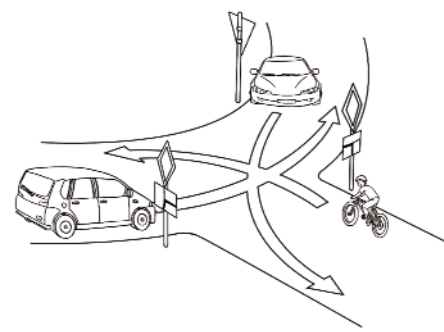
15. Aby przejść przez jezdnię, pieszy powinien:

- a) upewnić się, czy z lewej strony nie nadjeżdża żaden pojazd,
- b) najpierw spojrzeć w lewo, potem w prawo, następnie jeszcze raz w lewo i jeśli nie nadjeżdża żaden pojazd może przejść przez jezdnię,
- c) zdecydowanym krokiem wejść na jezdnię.

16. Pieszemu zabrania się wchodzenia na jezdnię:

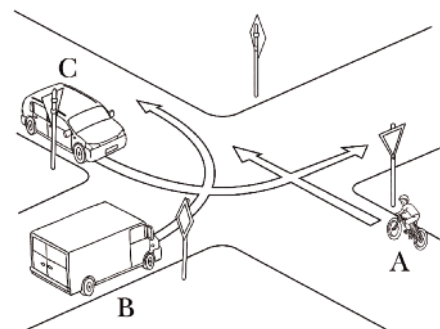
- a) spoza stojącego autobusu,
- b) poza przejściem dla pieszych,
- c) w nieoświetlonym miejscu.

17. Na tym skrzyżowaniu rowerzysta przejeżdża:



- a) pierwszy,
- b) drugi,
- c) trzeci.

18. Jaka jest kolejność przejazdu przez to skrzyżowanie?



- a) A, B, C.
- b) B, A, C.
- c) C, B, A.

19. Przy podejrzeniu złamania ręki należy:

- a) lekko poruszać ręką, aby sprawdzić, czy jest złamana,
- b) przystąpić natychmiast do unieruchomienia ręki za pomocą dostępnych środków,
- c) pozostawić rękę bez dodatkowych czynności.

20. Udzielając pierwszej pomocy poparzonemu w wypadku, należy:

- a) przykryć poparzonego kocem,
- b) polewać oparzone miejsce zimną wodą,
- c) czekać na przybycie lekarza.