

# Test na kartę rowerową nr 4

Masz przed sobą test składający się z 20 poleceń. Pytania testowe mają trzy odpowiedzi: a, b, c. Tylko jedna z nich jest poprawna. Wybierz ją i zamaluj długopisem kratkę znajdującą się obok. Za każdą poprawną odpowiedź uzyskasz 1 punkt. Za rozwiązanie całego testu możesz otrzymać maksymalnie 20 punktów.

1. Aby uzyskać kartę rowerową, należy ukończyć:

- a) 13 lat,
- b) 7 lat,
- c) 10 lat.

2. Wymijanie to przejeżdżanie obok pojazdu:

- a) nieporuszającego się,
- b) poruszającego się w kierunku przeciwnym,
- c) poruszającego się w tym samym kierunku.

3. Kierujący rowerem ma obowiązek jazdy z włączonymi światłami:

- a) od świtu do zmierzchu i we mgle,
- b) nocą, a od 1 października do końca lutego także w ciągu dnia,
- c) od zmierzchu do świtu, we mgle i w tunelu.

4. Czy rowerzysta może jechać po chodniku?

- a) nie, przepisy bezwzględnie zabraniają jazdy po chodniku,
- b) tak, jeśli nie ma ścieżki dla rowerów i pobocza, na jezdni dozwolona prędkość dla pojazdów przekracza 60 km/h, a szerokość chodnika wynosi co najmniej 2 m,
- c) tak, po ukończeniu 18 lat.

5. Jak powinien zachować się rowerzysta, widząc pieszego z białą laską wkraczającego na jezdnię?

- a) użyć sygnału dźwiękowego, aby ostrzec niewidomego,
- b) zwiększyć prędkość jazdy,
- c) zatrzymać się w celu umożliwienia niewidomemu przejścia przez jezdnię.

6. Rowerzyście przejeżdżającemu przez przejazd dla rowerów zabrania się:

- a) wymijania się z innym rowerzystą,
- b) jazdy z trzymaniem kierownicy tylko jedną ręką,
- c) zwalniania lub zatrzymywania się bez uzasadnionej przyczyny.

7. Światło przednie przy rowerze powinno być:

- a) czerwone,
- b) zielone,
- c) białe lub żółte.

8. Czy wolno przejeżdżać jezdnię rowerem w miejscu przejścia dla pieszych (na pasach)?

- a) tak,
- b) nie,
- c) tak, jeśli na przejściu nie ma pieszych.

9. Włączając się do ruchu jako rowerzysta:

- a) masz obowiązek zachowania szczególnej ostrożności i ustąpienia pierwszeństwa,
- b) nie musisz zachowywać szczególnej ostrożności, jeżeli nadjeżdżające pojazdy poruszają się z niewielką prędkością,
- c) masz obowiązek zachowania szczególnej ostrożności tylko w czasie mgły.

10. Widząc ten znak, kierujący rowerem powinien:

- a) bezwzględnie zatrzymać się,
- b) jechać powoli nie zatrzymując się,
- c) zatrzymać się, jeśli na drodze przed nim będą jechać pojazdy.



11. Znak ten oznacza:

- a) zakaz jazdy prosto,
- b) nakaz jazdy prosto przez skrzyżowanie,
- c) nakaz jazdy prosto.



12. Widząc ten znak umieszczony przed skrzyżowaniem, kierujący pojazdem:

- a) ma obowiązek skręcenia w prawo,
- b) nie może zawrócić,
- c) nie może skręcić w prawo.



13. Który znak zabrania wjazdu?

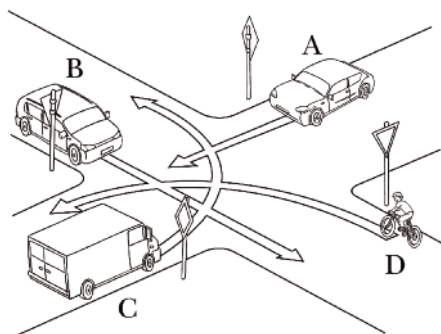


a)

b)

c)

14. Na tym skrzyżowaniu pierwszy przejedzie pojazd:



- a) A,
- b) D,
- c) C.

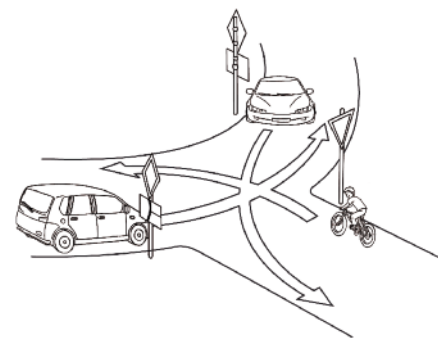
15. Pieszcy, przechodząc przez drogę dwujezdnową na obszarze zabudowanym:

- a) może przejść w dowolnym miejscu, jeżeli do przejścia jest więcej niż 100 m,
- b) może korzystać tylko z wyznaczonych przejść dla pieszych,
- c) może przejść w dowolnym miejscu, pod warunkiem zachowania bezpieczeństwa.

16. Kiedy pieszy może korzystać z drogi tylko dla rowerów?

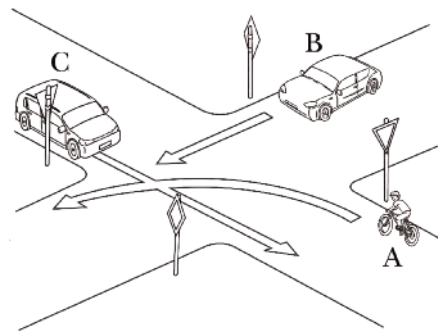
- a) w razie braku chodnika lub pobocza albo niemożliwości korzystania z nich,
- b) gdy prowadzi rower,
- c) zawsze, pod warunkiem udzielenia pierwszeństwa rowerzystom.

17. Na tym skrzyżowaniu rowerzysta przejeżdża:



- a) pierwszy,
- b) drugi,
- c) trzeci.

18. Jaka jest kolejność przejazdu przez to skrzyżowanie?



- a) A, B, C,
- b) B, C, A,
- c) B, A, C.

19. Jaka utrata krwi jest najbardziej niebezpieczna dla człowieka?

- a) z naczyń żylnych,
- b) z krwawiących tkanek miękkich,
- c) z tętnicy.

20. W razie podejrzenia uszkodzenia kręgosłupa na odcinku szyjnym należy:

- a) ułożyć głowę w pozycji bocznej,
- b) unieruchomić głowę,
- c) nie ruszać poszkodowanego.

imię i nazwisko

klasa